



SSC GD Mock Test



Personal Guidance

Get one on one guidance from top exam experts



Study Planner

Customized study plan with bi-weekly reviews



Live Classes Weekly Tests

PLUS



Structured Courses

Unlimited Access



Test Analysis

Get one on one guidance from top exam experts



Study Material

Specialised Notes & Practice Sets




Experts' Guidelines

Study booster workshops by exam experts

सफलता बैच

SSC CGL & CHSL 2021 Exams



Pathway to crack SSC Exams
with India's best educators

8th December 2021

- Covers Full syllabus for SSC CGL & CHSL 2021 Exams
- The Classes will be taught in Hindi and the Notes will be provided in English
- Total 400+ Hours consumed
- Duration of the batch is 9 months

Check out the **brand new updates** on the Unacademy Ask A Doubt!

A faster and better way to solve doubts!

SSC EXAM

Whats new?

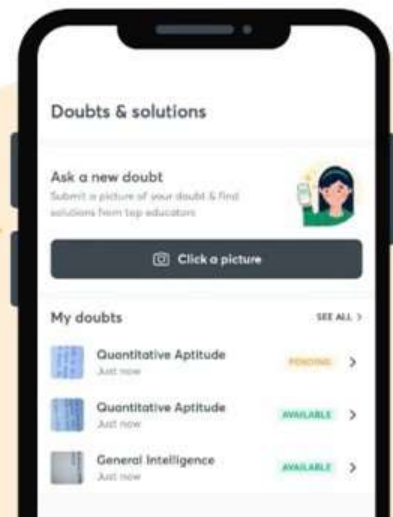
Upload upto three doubts at a go.

You can post 2 additional doubts while waiting for your solution

Get solutions in your preferred language

Select the language you want your question to be answered in

Simply
Click, Crop and Submit
your question!



TEST SERIES FOR SSC ASPIRANTS

FREE	: Current Affairs by Prashant Dhawan	: 10Test - Wednesday, Fridays - 10 AM
FREE	: English Test Series By Rani Ma'am	: 4 Test - Mondays - 9 PM
FREE	: Quant Super Series by Sahil Khandelwal	: 5 Test - Wednesdays - 9 PM
FREE	: Reasoning Test Series by Sumit Goyal	: 5 Test - 2nd, 9th, 16th, 23rd, 30th- 9 PM
FREE	: Static G.K by Ankit Awasthi (Polity and Science)	: 4 Test - Tuesdays - 9 PM
FREE	: Static G.K by Varun Awasthi(History and Geography)	: 5 Tests - Fridays - 9 PM
FREE	: Agni Pariksha by Pratiyogita Mantra(SSCCGL & CHSL Tier I)	: 4 Tests - Sundays- 7 PM
FREE	: Abhinay Abhyaas Quant Tier II Test Series	: 4 Tests - Friday - 10 AM
FREE	: Target SSC CGL English Tier II by Christopher Phoenix	: 4 Tests - Friday - 2 PM
PLUS	: SSC GD Constable Mock Test Series	: On 4th , 11th Dec - 6 PM
PLUS	: SSC Selection Post Test Series	: Sundays(5th, 12th, 19th, 26th) - 12PM

Attempt all the tests live and recorded now!



RAISE HAND

Talk with your Favourite
Educators in live class and
clear your doubts!

It's much better than offline!



SSC COMBAT(Reasoning Marathon)

 30 Questions 40 Minutes 12th December  12 : 00 PM

REWARDS WORTH
₹1 CRORE +

*T&C applied

**Win Upto 100%
Scholarship!**

*T&C applied



100%
Scholarship*

RANK 1 - 3



75%
Scholarship*

RANK 4 - 10



50%
Scholarship*

RANK 11- 50



25%
Scholarship*

RANK 51 - 500



20%
Scholarship*

RANK 501- 1000

Available in Hindi and English

[Enroll Now](#)

*T&C applied

SSC Exams subscription

Choose a plan and proceed

 No cost EMI available on 6 months & above subscription plans



24 months

76% OFF

₹7,800
Total

₹325
per month



12 months

60% OFF

₹6,500
Total

₹542
per month



6 months

33% OFF

₹5,400
Total

₹900
per month



DEEPU10

Proceed to pay

Use code

DEEPU10

**&GET 10%
Discount Now!!**

SUBSCRIBE NOW



Telegram Group Name :

Deepak Sir Reasoning Official

Telegram Group Link :

<https://t.me/DeepakSirReasoningOfficial>



Special Class on Unacademy



Time : 5 PM (5 Chapter Mock)

Date : 7 Dec. 2021



Special Class on Unacademy



Time : 9 PM (Mock Test)

Date : 7 Dec. 2021

All Set
Lets Crack It!



Reasoning Mock Test For Railway Exams



P is father of R but R is not his son. T is daughter of R. U is spouse of P. Q is brother of R. S is son of Q. V is spouse of Q. W is father of V. Who is the maternal grandfather of S?

P, R का पिता है लेकिन R उसका पुत्र नहीं है। T, R की पुत्री है। U, P की पत्नी है। Q, R का भाई है। S, Q का पुत्र है। V, Q का पति है। W, V का पिता है। S का नाना कौन है?

(A) W

(B) R

(C) P

(D) Can't be determined



Reasoning Mock Test For Railway Exams



In each of the following question select the related letters/words out of given alternatives.

निम्न में से प्रत्येक प्रश्न में संबंधित अक्षरों/शब्दों चुनिए ?

KQ: 180: : HV : ?

- (A) 221
- (B) 161
- (C) 191
- (D) 181



Reasoning Mock Test For Railway Exams



Select the odd one out from the given alternatives.

दिए गए विकल्पों में से विषम को चुनिए ?

- (A) BCDE 2
- (B) HILO 4
- (C) PSTX 12
- (D) JKMN 2

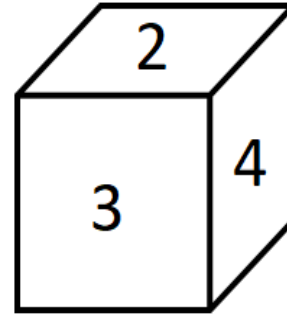
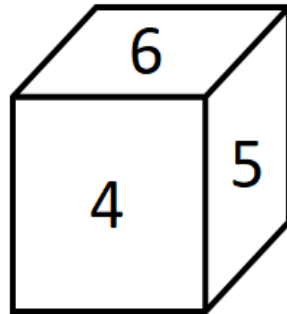
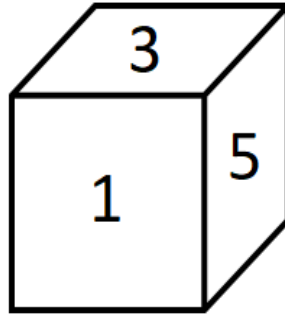


Reasoning Mock Test For Railway Exams



What will be the number on the face opposite to the side having '1'?

'1' को प्रदर्शित करने वाले भाग के विपरीत भाग पर कौनसी संख्या आएगी?



(A) 3

(B) 6

(C) 2

(D) 4



Reasoning Mock Test For Railway Exams



Identify the number that does NOT belong in the given series.

उस संख्या की पहचान करें जो दी गई श्रृंखला से सम्बंधित नहीं है।

0, 6, 24, 60, 120, 216

- (A) 6
- (B) 216
- (C) 60
- (D) 120



Reasoning Mock Test For Railway Exams



Seema walks to her office. She is facing south when she reaches her office. After starting from home she turned left twice and then right before reaching her office. Which direction was Seema facing when she started from her home?

सीमा अपने कार्यालय के लिए चलती है। वह दक्षिण का मुख किये हुए है जब वह अपने कार्यालय पहुंचती है। घर से चलना शुरू करने के बाद, वह दो बार बाएं मुड़ी और फिर कार्यालय पहुंचने से पहले दाएं मुड़ी। सीमा किस दिशा की ओर मुख किये हुए थी जब वह अपने घर से चलना शुरू की?

- (A) South
- (B) East
- (C) North
- (D) West



Reasoning Mock Test For Railway Exams



Select the missing number from the given response.
दिए गए विकल्पों में से लुप्त अंक ज्ञात कीजिए।

21 3 ? 147

42 7 6 252

6 3 2 12

12 3 4 48

(A) 6

(B) 7

(C) 8

(D) 9



Reasoning Mock Test For Railway Exams



Aman started from his school, walks 11 m towards the north then takes a right turn and walks 9 m after that he takes right turn again, walks 17 m and stops at his house. Rajat also starts from the same School, walks 14 m towards the south, then takes a left turn and walks 15 m before stopping at his house.

अमन अपने स्कूल से चलना शुरू करता है, 11 मीटर उत्तर की ओर चलता है, फिर दायें मुड़ता है और 9 मीटर चलता है उसके बाद वह फिर से दायें मुड़ता है, 17 मीटर चलता है और अपने घर पर रुक जाता है। रजत भी उसी स्कूल से चलना शुरू करता है, दक्षिण की ओर 14 मीटर चलता है, फिर बाएं मुड़ता है और अपने घर पर रुकने से पहले 15 मीटर चलता है।

What is the direction of school with Respect to Aman's house?
अमन के घर के संबंध में स्कूल की दिशा क्या है?

- (A) Southwest
- (B) Northwest
- (C) North
- (D) Southeast



Reasoning Mock Test For Railway Exams



Which letter-cluster will replace the question mark (?) in the following series?

उस अक्षर समूह का चयन करें जो निम्नलिखित श्रृंखला में प्रश्न चिन्ह (?) के स्थान पर आएगा।

GXB, JVD, MTF, PRH, ?

- (A) RPJ
- (B) SPJ
- (C) SQJ
- (D) RQI



Reasoning Mock Test For Railway Exams



Three of the following four letter-clusters are alike in a certain way and one is different. Find the odd one out.

निम्नलिखित चार अक्षर समूहों में से तीन एक निश्चित तरीके से एक समान हैं और एक अलग है। विषम अक्षर समूह का चयन करें।

- (A) MOQSU
- (B) EGIKM
- (C) NPRTV
- (D) IKLPS



Reasoning Mock Test For Railway Exams



Statement कथन

Should all education be made free for girls and women of all ages in India?
क्या भारत में सभी उम्र की लड़कियों और महिलाओं के लिए सभी शिक्षा मुफ्त कर दी जानी चाहिए?

Arguments तर्क

I, No, this will weaken our present social structures.

नहीं, यह हमारे वर्तमान सामाजिक ढांचे को कमजोर करेगा।

II. Yes, this is the only way to bring back glory to Indian women hood.

हाँ, भारतीय नारी के गौरव को वापस लाने का यही एकमात्र तरीका है।



Reasoning Mock Test For Railway Exams



Select the option that is related to the third number in the same way as the second number is related to the first number.

उस विकल्प का चयन करें, जो तीसरी संख्या से उसी प्रकार संबंधित है जिस प्रकार से दूसरी संख्या, पहली संख्या से संबंधित है।

4262: 4271: : 2139 : .?.

(A) 2346

(B) 7132

(C) 9521

(D) 2572



Reasoning Mock Test For Railway Exams



Study the following question carefully and choose the right answer.

निम्नलिखित प्रश्न का ध्यानपूर्वक अध्ययन करें और सही उत्तर का चयन करें।

Statements

$$\mathbf{H > S \geq F = B < U < T, E \leq B \leq K}$$

Conclusions

I. $K > H$

II. $K = H$



Reasoning Mock Test For Railway Exams



Pointing to a girl in the picture, Salman said, “Her mother’s brother is the only son of my mother’s father.” How is the girl’s mother related to Salman if the girl is not the real sister of Salman?

तस्वीर में एक लड़की की ओर इशारा करते हुए, सलमान ने कहा, "उसकी माँ का भाई मेरी माँ के पिता का इकलौता बेटा है।" यदि लड़की सलमान की सगी बहन नहीं है तो लड़की की माँ का सलमान से क्या संबंध है?

- (A) Sister
- (B) Aunt
- (C) Grandmother
- (D) None



Reasoning Mock Test For Railway Exams



Select the missing number from the given alternatives.

दिए गए विकल्पों में से लुप्त संख्या का चयन कीजिए।

36 6 9 15

88 11 9 ?

120 ? 6 18

(A) 54,41

(B) 17,82

(C) 17,10

(D) 96,13



Reasoning Mock Test For Railway Exams



In a row where all are facing north, Priya is 15th from the left end and Garima is 19th from the right end. They interchange their positions, and Ram who sits 24th from the left end sits at the 5th place to the left of Priya's new position. How many persons were there in the row?

एक पंक्ति में जहां सभी उत्तर की ओर उन्मुख हैं, प्रिया बाएं छोर से 15वें स्थान पर है और गरिमा दाएं छोर से 19वें स्थान पर है। वे अपने स्थान आपस में बदल लेते हैं, और राम जो बाएं छोर से 24वें स्थान पर बैठा है, प्रिया के नए स्थान के बाएं से 5वें स्थान पर बैठा है। पंक्ति में कितने व्यक्ति थे?

- (A) 36
- (B) 42
- (C) 47
- (D) 56
- (E) None



Reasoning Mock Test For Railway Exams



Which Pair does NOT belong with the others?

कौन सा जोड़ा दूसरों से संबंधित नहीं है?

(A) $140 - 45$

(B) $110 - 35$

(C) $100 - 30$

(D) $80 - 25$



Reasoning Mock Test For Railway Exams



Point Q is 12 m north of point V. Point K is exactly in the middle of the points Q and V. Point W is 8 m east of point V. Point U is 7 m east of point K. Point P is 9 m north of point U.

बिंदु Q, बिंदु V के 12 मीटर उत्तर में है। बिंदु K, बिंदु Q और V के ठीक मध्य में है। बिंदु W, बिंदु V के 8 मीटर पूर्व में है। बिंदु U, बिंदु K के 7 मीटर पूर्व में है। बिंदु P, बिंदु U के 9 मीटर उत्तर में है।

What is the shortest distance between point K and W?
बिंदु K और W के मध्य न्यूनतम दूरी कितनी है?

- (A) 9 m
- (B) 10 m
- (C) 11 m
- (D) 12 m



Reasoning Mock Test For Railway Exams



Statementकथन

"To keep myself up-to-date, I always listen to 9.00 p.m. news on radio." - A candidate tells the interview board.

"खुद को अप-टू-डेट रखने के लिए, मैं हमेशा रात 9 बजे रेडियो पर समाचार सुनता हूँ।" - एक उम्मीदवार साक्षात्कार बोर्ड को बताता है।

Assumptionsमान्यताओं

I. The candidate does not read newspaper.

उम्मीदवार अखबार नहीं पढ़ता है।

II. Recent news is broadcast only on radio.

हाल के समाचार केवल रेडियो पर प्रसारित होते हैं।



Reasoning Mock Test For Railway Exams




Which Answer Figure will complete the pattern in the figure?

कौन सी उत्तर आकृति आकृति के पैटर्न को पूरा करेगी? (A)



(A)



(B)



(C)



(D)





Reasoning Mock Test For Railway Exams



Three of the following four number-pairs are alike in a certain way and one is different. Identify the different one.

निम्नलिखित चार संख्या युग्मों में से तीन एक निश्चित तरीके से एक समान हैं और एक अलग है। विषम संख्या युग्म का चयन करें।

(A) 25: 65

(B) 28: 82

(C) 62: 26

(D) 46: 64



Reasoning Mock Test For Railway Exams



Statements कथन

Some hours are minutes.

कुछ घंटे मिनट हैं।

All clocks are minutes.

सभी घड़ियां मिनट हैं।

No minute is second.

कोई मिनट सेकेंड नहीं है।

Conclusions निष्कर्ष

I. Some hours are clocks.

कुछ घंटे घड़ियां हैं।

II. All seconds being clocks is a possibility.

सभी सेकेंड के घड़ी होने की संभावना है।

III. No hour is a clocks.

कोई घंटा घड़ी नहीं है।



Reasoning Mock Test For Railway Exams



Select the correct alternative to indicate the arrangement of the following words in a logical and meaningful order.

निम्नलिखित शब्दों को एक तार्किक और सार्थक क्रम में व्यवस्थित करें।

1. Childhood बचपन
2. Adulthood वयस्कता
3. Infancy बालपन
4. Old age बुढ़ापा
5. Adolescence किशोरावस्था

- (A) 5, 1, 3, 2, 4
(B) 3, 1, 5, 2, 4
(C) 5, 4, 3, 2, 1
(D) 2, 1, 5, 3, 4



Reasoning Mock Test For Railway Exams



Chirag's birthday is on Thursday 1st June. On what day of the week will be Rayan's Birthday in the same year if Rayan's was born on 3rd December?
गुरुवार 1 जून को चिराग का जन्मदिन है। उसी वर्ष रेयान का जन्मदिन सप्ताह के किस दिन होगा यदि रेयान का जन्म 3 दिसंबर को हुआ था?

- (A) Wednesday
- (B) Sunday
- (C) Friday
- (D) Saturday



Reasoning Mock Test For Railway Exams



Which two signs should be interchanged to make the given equation correct?

निम्नलिखित में से कौनसे दो चिन्हों को परस्पर बदलने से दिया गया समीकरण सही होगा।

$$15 \div 15 \times 10 - 10 + 5 = 15$$

(A) \div and $-$

(B) \div and \times

(C) \times and $-$

(D) $+$ and $-$



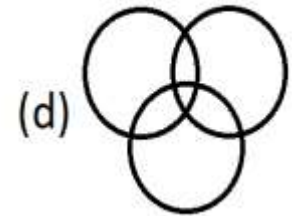
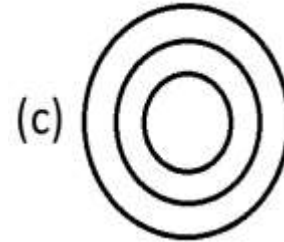
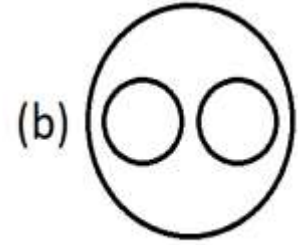
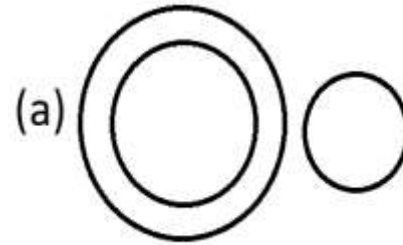
Reasoning Mock Test For Railway Exams



Select the Venn diagram that represents the correct relationship between the following classes.

दिए गए विकल्पों में से उस वेन-आरेख को चुनें जो निम्नलिखित वर्गों के बीच संबंधों को सबसे अच्छी तरह प्रदर्शित करता है।

Teachers, Singers, Mothers
शिक्षक, गायक, माता





Reasoning Mock Test For Railway Exams



Statement कथन

India has been continuously experiencing military threats from its neighbouring countries.

भारत को अपने पड़ोसी देशों से लगातार सैन्य खतरों का सामना करना पड़ रहा है।

Courses of action कार्यवाई के दौरान

I. India should engage into an all out war to stop the nagging threats.

भयावह खतरों को रोकने के लिए भारत को एक चौतरफा युद्ध में शामिल होना चाहिए।

II. India should get the neighbours into a serious dialogue to reduce the tension at its borders

भारत को अपनी सीमाओं पर तनाव कम करने के लिए पड़ोसियों से गंभीर बातचीत करनी चाहिए।



Reasoning Mock Test For Railway Exams



P, Q, R, S, T, V, W and Z are sitting around a circle facing the centre. T is 2nd to the right of R who is 3rd to the right of P. S is 2nd to the left of P and 4th to the right of Q. Z is 3rd to the right of V who is not an immediate neighbour of P.

P, Q, R, S, T, V, W और Z एक वृत्त के चारों ओर केंद्र की ओर मुख करके बैठे हैं। T, R के दायें से दूसरे स्थान पर है जो P के दायें से तीसरे स्थान पर है। S, P के बायें से दूसरे स्थान पर और Q के दायें से चौथे स्थान पर है। Z, V के दायें से तीसरे स्थान पर है जो P का निकटतम पड़ोसी नहीं है।

Who is second to the right of T?

T के दायें से दूसरे स्थान पर कौन है?

- (A) S
- (B) Z
- (C) P
- (D) R




Reasoning Mock Test For Railway Exams



Select a figure in which the Question Figure is hidden.

उस आकृति का चयन करें जिसमें प्रश्न आकृति छिपी हुई है। (A)



(A)



(B)



(C)



(D)





Reasoning Mock Test For Railway Exams



Which number in the given series is Incorrect?

दी गई श्रृंखला में कौन सी संख्या गलत है?

3, 7, 15, 27, 53, 63

(A) 53

(B) 63

(C) 27

(D) 7



Reasoning Mock Test For Railway Exams



Statements कथन

All tubes are cubes.

सभी ट्यूब क्यूब हैं।

No cube is sky.

कोई क्यूब स्काई नहीं है।

No bird is sky.

कोई बर्ड स्काई नहीं है।

Conclusions निष्कर्ष

I. No tube is bird.

कोई ट्यूब बर्ड नहीं है।

II. All birds being cubes is a possibility.

सभी बर्ड्स के क्यूब होने की संभावना है।



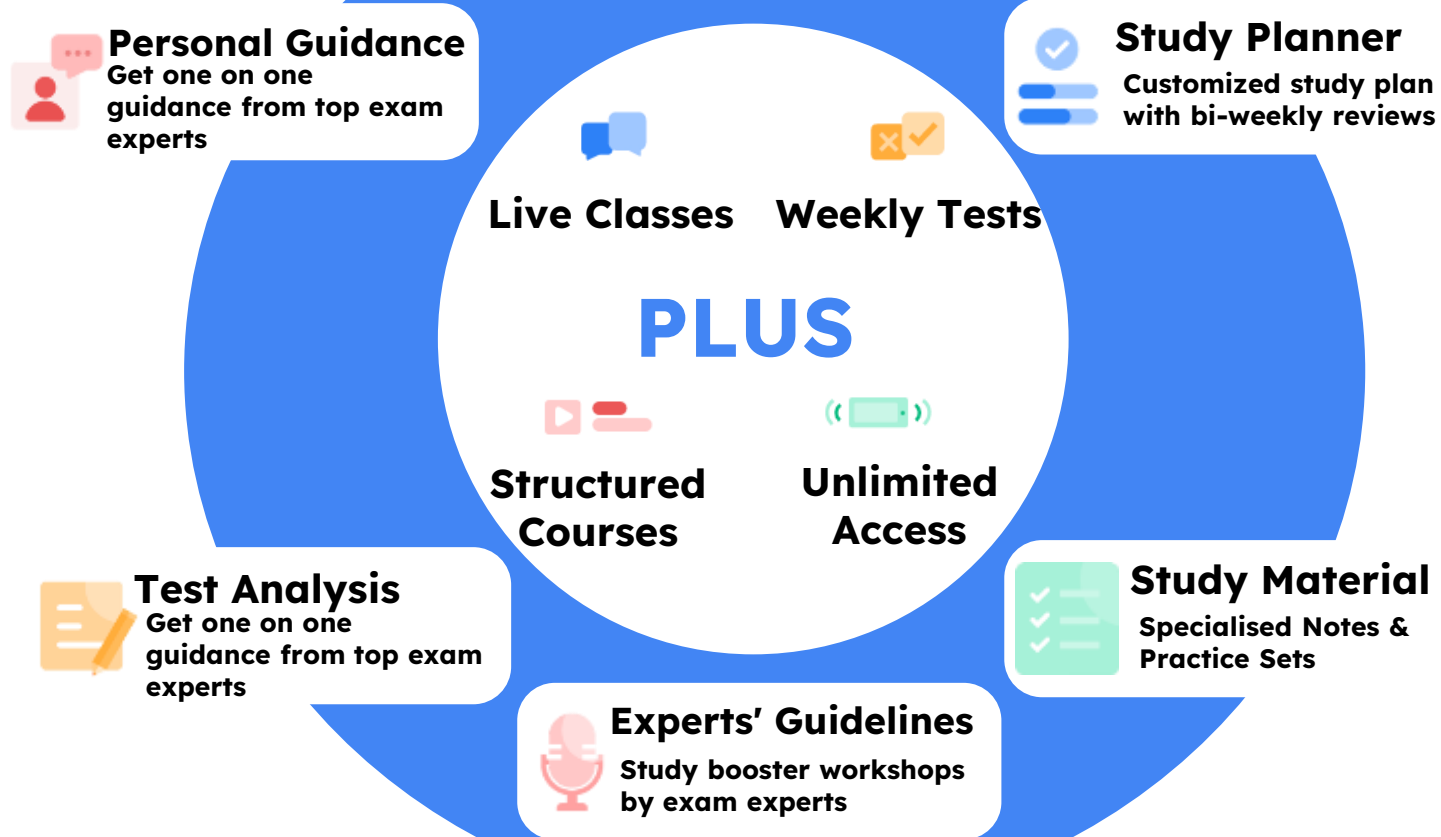
Reasoning Mock Test For Railway Exams



In a code language, 54831 is coded as 63922.
What will be the code for 86274 in that language?


एक निश्चित कूट भाषा में '54831' को '63922' के रूप में कोडित किया गया है, तो उसी कूट भाषा में '86274' को कैसे कोड किया जायेगा?

- (A) 75365
- (B) 77185
- (C) 95365
- (D) 95185



सफलता बैच

SSC CGL & CHSL 2021 Exams



Pathway to crack SSC Exams
with India's best educators

8th December 2021

- Covers Full syllabus for SSC CGL & CHSL 2021 Exams
- The Classes will be taught in Hindi and the Notes will be provided in English
- Total 400+ Hours consumed
- Duration of the batch is 9 months

Check out the **brand new updates** on the Unacademy Ask A Doubt!

A faster and better way to solve doubts!

SSC EXAM

Whats new?

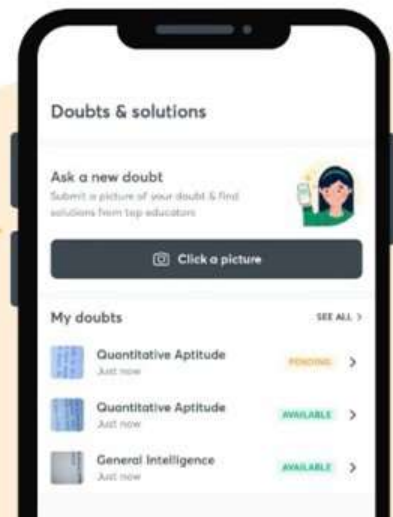
Upload upto three doubts at a go.

You can post 2 additional doubts while waiting for your solution

Get solutions in your preferred language

Select the language you want your question to be answered in

Simply
Click, Crop and Submit
your question!



TEST SERIES FOR SSC ASPIRANTS

FREE	: Current Affairs by Prashant Dhawan	: 10Test - Wednesday, Fridays - 10 AM
FREE	: English Test Series By Rani Ma'am	: 4 Test - Mondays - 9 PM
FREE	: Quant Super Series by Sahil Khandelwal	: 5 Test - Wednesdays - 9 PM
FREE	: Reasoning Test Series by Sumit Goyal	: 5 Test - 2nd, 9th, 16th, 23rd, 30th- 9 PM
FREE	: Static G.K by Ankit Awasthi (Polity and Science)	: 4 Test - Tuesdays - 9 PM
FREE	: Static G.K by Varun Awasthi(History and Geography)	: 5 Tests - Fridays - 9 PM
FREE	: Agni Pariksha by Pratiyogita Mantra(SSCCGL & CHSL Tier I)	: 4 Tests - Sundays- 7 PM
FREE	: Abhinay Abhyaas Quant Tier II Test Series	: 4 Tests - Friday - 10 AM
FREE	: Target SSC CGL English Tier II by Christopher Phoenix	: 4 Tests - Friday - 2 PM
PLUS	: SSC GD Constable Mock Test Series	: On 4th , 11th Dec - 6 PM
PLUS	: SSC Selection Post Test Series	: Sundays(5th, 12th, 19th, 26th) - 12PM

Attempt all the tests live and recorded now!



RAISE HAND

Talk with your Favourite
Educators in live class and
clear your doubts!

It's much better than offline!



SSC COMBAT(Reasoning Marathon)

 30 Questions

 40 Minutes

 12th December  12 : 00 PM

REWARDS WORTH
₹1 CRORE +

*T&C applied

**Win Upto 100%
Scholarship!**

*T&C applied



100%
Scholarship*

RANK 1 - 3



75%
Scholarship*

RANK 4 - 10



50%
Scholarship*

RANK 11- 50



25%
Scholarship*

RANK 51 - 500



20%
Scholarship*

RANK 501- 1000


Available in Hindi and English

[Enroll Now](#)

*T&C applied

SSC Exams subscription

Choose a plan and proceed

 No cost EMI available on 6 months & above subscription plans



24 months

76% OFF

₹7,800
Total

₹325
per month



12 months

60% OFF

₹6,500
Total

₹542
per month



6 months

33% OFF

₹5,400
Total

₹900
per month



DEEPU10

Proceed to pay

Use code

DEEPU10

**&GET 10%
Discount Now!!**

SUBSCRIBE NOW



Special Class on Unacademy



Time : 5 PM (5 Chapter Mock)

Date : 7 Dec. 2021



Special Class on Unacademy



Time : 9 PM (Mock Test)

Date : 7 Dec. 2021

All Set
Lets Crack It!

REPORT & WIN



Opportunity for all Learners to report any inappropriate content in the video

Be the first one to report a particular issue to claim your prize

Report any inappropriate content using the form in the description





Thank you

+ SUBSCRIBE

